

極座標系統中交點的困擾

林大風
邱焯正

一、問題：

設 E_1 及 E_2 為 x, y 直角座標系中的兩個方程式。令 G_1 及 G_2 分別為 E_1 和 E_2 的圖形。則 (a, b) 為聯立方程式 E_1, E_2 的解的充要條件為 $(a, b) \in G_1 \cap G_2$ 。這是大家所熟知的性質。例如

$$\begin{cases} x = 1 \\ y = -1 \end{cases} \quad \text{及} \quad \begin{cases} x = 4 \\ y = 2 \end{cases}$$

為聯立方程式

$$\begin{cases} x - y = 2 \\ y^2 - x = 0 \end{cases}$$

的解。而 $(1, -1)$ 及 $(4, 2)$ 則為此二方程式的圖形的交點（見圖 1）。

上述的性質在極座標系統中是否也成立呢？讓我們先看看下面的兩個例子。

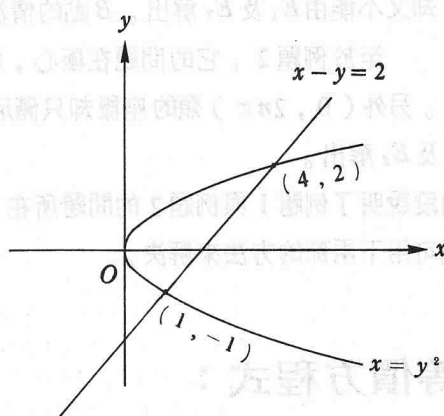


圖 1

例題 1：試求方程式

$$\begin{cases} r = -1 + \cos \theta \cdots \cdots E_1 \\ r = 1 \cdots \cdots E_2 \end{cases}$$

的圖形的交點。

解：由 E_1 與 E_2 得

$$1 = -1 + \cos \theta \quad \text{或} \quad 2 = \cos \theta$$

因此這組聯立方程式無解。難道他們的圖形不相交嗎？其實他們有兩個交點 A 及 B （見圖 2）。但是為

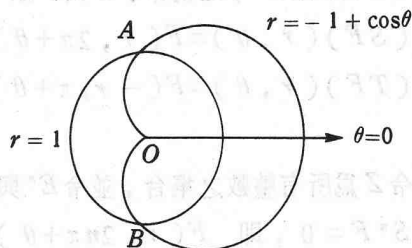


圖 2

什麼無法從 E_1 及 E_2 來解出 A 與 B 的座標呢？

例題 2：試求方程式

$$\begin{cases} r = \cos \theta \cdots \cdots E_1 \\ r = \sin \theta \cdots \cdots E_2 \end{cases}$$

的圖形的交點。

解：解 E_1 及 E_2 得

$$\cos \theta = \sin \theta \Rightarrow \tan \theta = 1 \Rightarrow \theta = n\pi + \frac{\pi}{4}$$

若 n 為偶數，則

$$r = \cos\left(n\pi + \frac{\pi}{4}\right) = \cos \frac{\pi}{4} = \frac{\sqrt{2}}{2}$$

若 n 為奇數，則

$$r = -\cos \frac{\pi}{4} = -\frac{\sqrt{2}}{2}$$

但是 $\left(\frac{\sqrt{2}}{2}, \frac{\pi}{4}\right)$ 和 $\left(-\frac{\sqrt{2}}{2}, \frac{5\pi}{4}\right)$ 在極座標平面上代表同一點。因此我們只求出一個交點的座標！因為 E_1 和 E_2 的圖形都是經極心 O 的圓，所以極心 O 亦為一交點（見圖 3）。為什麼我們無法從 E_1 及 E_2 來解出極心的座標呢？

現在來找出上述兩個問題的癥結。在例題 1 中， A 有 $\left(1, 2n\pi + \frac{\pi}{2}\right)$ 及 $\left(-1, 2n\pi - \frac{\pi}{2}\right)$ 兩類座標。前者滿足 E_2 而不滿足 E_1 ，後者滿足 E_1 而不滿足 E_2 。因此雖然 A 為一交點却又不能由 E_1 及 E_2 解出。 B 點的情況也類似。

至於例題 2，它的問題在極心，極心 $\left(0, 2n\pi + \frac{\pi}{2}\right)$ 類的座標滿足 E_1 而不滿足 E_2 。另外 $\left(0, 2n\pi\right)$ 類的座標却只滿足 E_2 而非 E_1 ，因此雖然極心 O 為一交點却無法由 E_1 及 E_2 解出。

前兩段說明了例題 1 與例題 2 的問題所在。但是以後若遇到極座標方程式時，應該怎樣來處理呢？我們可用下兩節的方法來解決。

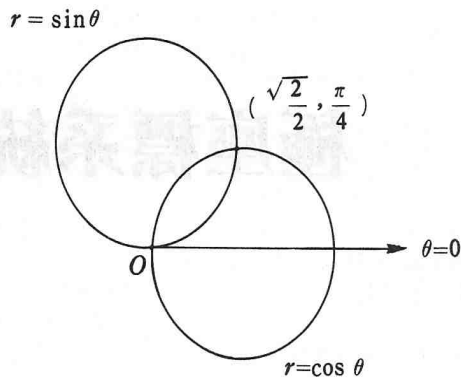


圖 3

二、等價方程式：

對 r 與 θ 的函數 F ，定義算子 S 與 T 如下：

$$(SF)(r, \theta) = F(r, 2\pi + \theta), (S^0 F) = F,$$

$$(TF)(r, \theta) = F(-r, \pi + \theta), (T^0 F) = F.$$

定義 1：令 Z 為所有整數之集合，並令 E^n 與 E_n 分別為

$$S^n F = 0, \text{ 即 } F(r, 2n\pi + \theta) = 0, \quad n \in Z$$

$$S^n TF = 0 \quad F(-r, (2n+1)\pi + \theta) = 0$$

之方程式，這些方程式互稱為等價方程式。

例題 3：試求(a) $r+2-\cos\theta=0$ ，(b) $r-5\cos\theta=0$ ，之等價方程式。

解：(a)此時 $F(r, \theta) = r+2-\cos\theta$ ，

$$F(r, 2n\pi+\theta) = r+2-\cos(2n\pi+\theta) = 0 \Rightarrow r+2-\cos\theta = 0。$$

$$F(-r, (2n+1)\pi+\theta) = -r+2-\cos(2n\pi+\pi+\theta) = 0 \Rightarrow -r+2+\cos\theta = 0。$$

故 $\begin{cases} r+2-\cos\theta=0 \\ r-2-\cos\theta=0 \end{cases}$ 互為等價方程式。

(b)此時 $F(r, \theta) = r-5\cos\theta$ ，

$$F(r, 2n\pi+\theta) = r-5\cos(2n\pi+\theta) = 0 \Rightarrow r-5\cos\theta = 0，$$

$$F(-r, (2n+1)\pi+\theta) = -r-5\cos(2n\pi+\pi+\theta) = 0 \Rightarrow -r+5\cos\theta = 0。$$

故 $r-5\cos\theta=0$ 沒有其他不同之等價方程式。

例題 4：試求(a) $r+1-\cos\theta=0$ ，(b) $r=1$ 之等價方程。

解：(a)此時 $F(r, \theta) = r+1-\cos\theta$ ，

$$F(r, 2n\pi+\theta) = r+1-\cos(2n\pi+\theta) = 0 \Rightarrow r+1-\cos\theta = 0$$

$$F(-r, (2n+1)\pi+\theta) = -r+1-\cos(2n\pi+\pi+\theta) = 0 \Rightarrow r-1-\cos\theta = 0$$

故 $\begin{cases} r+1-\cos\theta=0 \\ r-1-\cos\theta=0 \end{cases}$ 互為等價方程。

(b)同法可得

$$\begin{cases} r=1 \\ r=-1 \end{cases} \text{ 互為等價方程。}$$

例題 5：試求(a) $r-\cos\theta=0$ ，(b) $r-\sin\theta=0$ 之等價方程。

解：(a)此時 $F(r, \theta) = r-\cos\theta$

$$F(r, 2n\pi+\theta) = r-\cos(2n\pi+\theta) = 0 \Rightarrow r-\cos\theta = 0。$$

$$F(-r, (2n+1)\pi+\theta) = -r-\cos(2n\pi+\pi+\theta) = 0 \Rightarrow r-\cos\theta = 0。$$

故原方程沒有其他不同的等價方程式。

(b)此時 $F(r, \theta) = r-\sin\theta$ ，

$$F(r, 2n\pi+\theta) = r-\sin(2n\pi+\theta) = 0 \Rightarrow r-\sin\theta = 0。$$

$$F(-r, (2n+1)\pi+\theta) = -r-\sin(2n\pi+\pi+\theta) = 0 \Rightarrow -r+\sin\theta = 0。$$

故原方程式亦沒有其他不同之等價方程式。

例題 6： $\begin{cases} r+\sin 2\theta=0 \\ r-\sin 2\theta=0 \end{cases}$ 互為等價方程式。

解：請讀者自導。

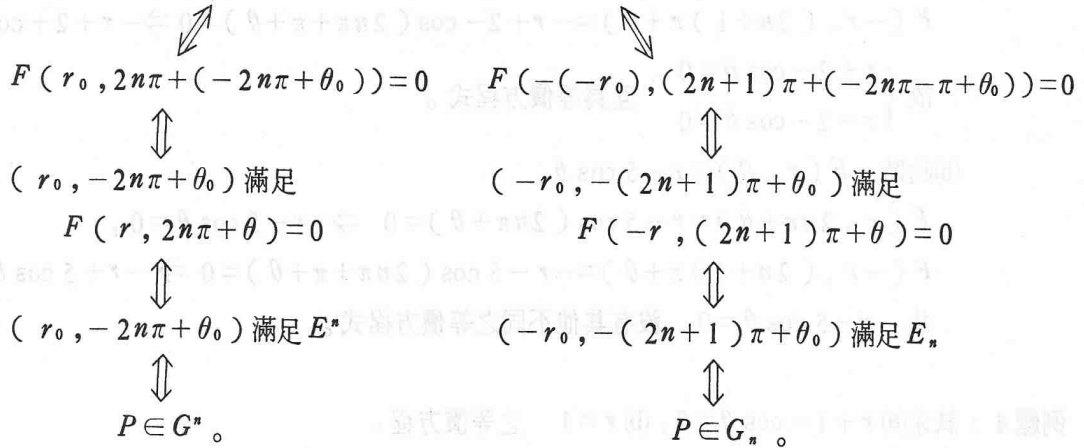
定理 1：等價方程式之圖形皆相同

證明：設 E 為原方程式 $F(r, \theta) = 0$ ， $E^*, E_n, n \in Z$ ，

$$\begin{cases} F(r, 2n\pi + \theta) = 0 \cdots \cdots \cdots E^n \\ F(-r, (2n+1)\pi + \theta) = 0 \cdots \cdots \cdots E_n \end{cases}$$

為等價方程式。並令 G, G^*, G_n 分別為方程式 E, E^*, E_n 之圖形。則

$$P \in G \iff P \text{ 之某組座標 } (r_0, \theta_0) \text{ 滿足 } F(r_0, \theta_0) = 0$$



以上推導對任意的 $n \in Z$ 皆成立。因此所有的等價方程式的圖形皆相同。

例題 7 : $\begin{cases} r \pm \sin \frac{\theta}{2} = 0 \\ r \pm \cos \frac{\theta}{2} = 0 \end{cases}$ 互為等價方程式。

解：請讀者自導。圖形請見圖 4。

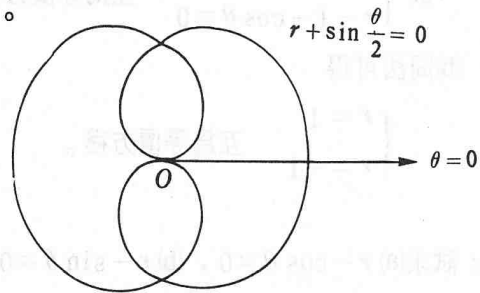


圖 4

定理 2：設 G 為方程式 $E: F(r, \theta) = 0$ 之圖形， $P \in G$ 。若 (r_0, θ_0) 為 P 之某組座標，則 (r_0, θ_0) 必滿足某個等價方程。

證明： $P \in G \Rightarrow P$ 之某組座標滿足方程式 E 。即存在某 n_0 使

$$\begin{aligned} (r_0, 2n_0\pi + \theta_0) \text{ 滿足 } E & \quad \text{或} \quad (-r_0, (2n_0+1)\pi + \theta_0) \text{ 滿足 } E \\ \Rightarrow F(r_0, 2n_0\pi + \theta_0) = 0 & \quad \text{或} \quad F(-r_0, (2n_0+1)\pi + \theta_0) = 0 \\ \Rightarrow (r_0, \theta_0) \text{ 滿足 } E^{n_0} & \quad \text{或} \quad (r_0, \theta_0) \text{ 滿足 } E_{n_0} \end{aligned}$$

例題 8：令 G 為方程式 $E: r = -1 + \cos \theta$ 之圖形， $A: (1, \frac{\pi}{2})$ (參見例題 1)。則 $A \in G$ 。雖然 $(1, \frac{\pi}{2})$ 不滿足 E 。但是 $(1, \frac{\pi}{2})$ 却滿足 E 的等價方程式 (見例題 4(a))

$$r - 1 - \cos \theta = 0。$$

定理 3：設方程式 $\begin{cases} E: E(r, \theta) = 0 \\ F: F(r, \theta) = 0 \end{cases}$ 之等價方程為 $\begin{cases} E_i(r, \theta) = 0 & 1 \leq i \leq k \\ F_j(r, \theta) = 0 & 1 \leq j \leq l \end{cases}$ ，

其圖形為 $\begin{cases} G_E \\ G_F \end{cases}$ 。

則對任意固定的 $i_0, 1 \leq i_0 \leq k$, 下列方程式

$$\begin{cases} E_{i_0}(r, \theta) = 0 \\ F_j(r, \theta) = 0 \end{cases}, \quad 1 \leq j \leq l,$$

的解的聯集為 $G_E \cap G_F$ 各點之座標, 但極心可能例外。

證明: (i) 設 (r_0, θ_0) 為某組 $\begin{cases} E_{i_0}(r, \theta) = 0 \\ F_j(r, \theta) = 0 \end{cases}$ 之解, 由定理 1 知

$$(r_0, \theta_0) \in \begin{cases} G_E \\ G_F \end{cases} \Rightarrow (r_0, \theta_0) \in G_E \cap G_F.$$

(ii) 反之, 設 $P_0 \in G_E \cap G_F, P_0$ 非極心, 則

$$P_0 \in G_E \Rightarrow P_0 \in \{E_{i_0}(r, \theta) = 0 \text{ 之圖形}\} \quad (\text{由定理 1})$$

$$\Rightarrow P_0 \text{ 之某組座標 } (r_0, \theta_0) \text{ 滿足 } E_{i_0}(r, \theta) = 0 \quad (\text{定義}).$$

又 $P_0 \in G_F, (r_0, \theta_0)$ 為 P_0 之一組座標, 由定理 2 知 (r_0, θ_0)

滿足某 $F_{j_0}(r, \theta) = 0$ 。故 (r_0, θ_0) 為

$$\begin{cases} E_{i_0}(r, \theta) = 0 \\ F_{j_0}(r, \theta) = 0 \end{cases}$$

之解。

由 (i) 及 (ii) 知定理 3 所述成立。

三、例題：

我們可用定理 3 來解釋例題 1。

例題 1：試求方程式 $\begin{cases} E: r = -1 + \cos \theta \\ F: r = 1 \end{cases}$ 的圖形的交點。

解：由例題 4 知 E 和 F 的等價方程式為

$$\begin{cases} r = -1 + \cos \theta \cdots \cdots E_1 \\ r = 1 + \cos \theta \cdots \cdots E_2 \end{cases}, \quad \begin{cases} r = 1 \cdots \cdots F_1 \\ r = -1 \cdots \cdots F_2 \end{cases}$$

$$\text{解} \quad \begin{cases} E_1 \\ F_1 \end{cases} \text{ 及 } \begin{cases} E_1 \\ F_2 \end{cases} \text{ 可得 } \phi \cup \left\{ \left(-1, \frac{\pi}{2}\right), \left(-1, -\frac{\pi}{2}\right) \right\} = \{A, B\}$$

$$\text{或由} \quad \begin{cases} E_2 \\ F_1 \end{cases} \text{ 及 } \begin{cases} E_2 \\ F_2 \end{cases} \text{ 得 } G_E \cap G_F = \left\{ \left(1, \frac{\pi}{2}\right), \left(1, -\frac{\pi}{2}\right) \right\} \cup \phi = \{A, B\}$$

$$\text{亦可由} \quad \begin{cases} F_1 \\ E_1 \end{cases} \text{ 及 } \begin{cases} F_1 \\ E_2 \end{cases} \text{ 或 } \begin{cases} F_2 \\ E \end{cases} \text{ 及 } \begin{cases} F_2 \\ E_2 \end{cases} \text{ 解出。}$$

例題 9：試求 $\begin{cases} E: r + \frac{1}{2} = 0 \\ F: r + \sin \frac{\theta}{2} = 0 \end{cases}$ 之圖形之交點 (不含極心)。

解：由例題 4 (a) 及例題 7 知 E 和 F 的等價方程式為

$$\begin{cases} E_1 : r + \frac{1}{2} = 0 \\ E_2 : r - \frac{1}{2} = 0 \end{cases} \quad \text{及} \quad \begin{cases} F_1 : r + \sin \frac{\theta}{2} = 0 \\ F_2 : r - \sin \frac{\theta}{2} = 0 \\ F_3 : r + \cos \frac{\theta}{2} = 0 \\ F_4 : r - \cos \frac{\theta}{2} = 0 \end{cases} .$$

解 $\begin{cases} F_1 \\ E_1 \end{cases}$ 和 $\begin{cases} F_1 \\ E_2 \end{cases}$ 。

$$\begin{cases} r + \sin \frac{\theta}{2} = 0 \\ r + \frac{1}{2} = 0 \end{cases} \quad \begin{cases} r + \sin \frac{\theta}{2} = 0 \\ r - \frac{1}{2} = 0 \end{cases}$$

$$\Downarrow \quad \Downarrow$$

$$r = -\frac{1}{2}, \theta = \pi \pm \frac{2}{3}\pi \quad r = \frac{1}{2}, \theta = -\pi \pm \frac{2}{3}\pi .$$

因此圖形有 4 個交點 $(\frac{1}{2}, -\pi \pm \frac{2}{3}\pi)$, $(-\frac{1}{2}, \pi \pm \frac{2}{3}\pi)$ 。此四點為圖 4 之圖形 G_F 與以極心 O 為圓心，以 $\frac{1}{2}$ 為半徑之圓 G_E 之交點。

例題 10：試求 $\begin{cases} E : r + 2 - \cos \theta = 0 \\ F : r - 5 \cos \theta = 0 \end{cases}$ 之圖形之交點（不包極心）。

解：由例題 3 知 F 沒有其他不同之等價方程式，而 E 之等價方程式為

$$\begin{cases} E_1 : r + 2 - \cos \theta = 0 \\ E_2 : r - 2 - \cos \theta = 0 \end{cases} .$$

利用定理 3，我們只需解 $\begin{cases} E_1 \\ F \end{cases}$ 或 $\begin{cases} E_2 \\ F \end{cases}$ 。

$$\text{由 } \begin{cases} E_2 \\ F \end{cases} \Rightarrow \begin{cases} r - 2 - \cos \theta = 0 \\ r - 5 \cos \theta = 0 \end{cases} \Rightarrow \cos \theta = \frac{1}{2} \Rightarrow \theta = \pm \frac{\pi}{3}, r = \frac{5}{2},$$

故交點為 $(\frac{5}{2}, \pm \frac{\pi}{3})$ 。

四、極心的問題：

上兩節所討論的交點把極心除外。對於要檢驗極心是否為一交點時，我們可用下一定理。

定理 4：設圖形 $\begin{cases} G_f \\ G_g \end{cases}$ 為聯立方程式 $\begin{cases} r = f(\theta) \\ r = g(\theta) \end{cases}$ 之圖形，

如果 $f(\theta)=0$ 有解, $g(\theta)=0$ 亦有解, 則極心 $O \in G_f \cap G_g$ 。

證明: 設 $\begin{cases} \alpha \text{ 爲 } f(\theta)=0 \text{ 之一解} \\ \beta \text{ 爲 } g(\theta)=0 \text{ 之一解} \end{cases} \Rightarrow \begin{cases} (0, \alpha) \in G_f \\ (0, \beta) \in G_g \end{cases} \Rightarrow \begin{cases} O \in G_f \\ O \in G_g \end{cases} \Rightarrow O \in G_f \cap G_g$ 。

例題 2: 試求方程式 $\begin{cases} E: r = \cos \theta \\ F: r = \sin \theta \end{cases}$ 之圖形之交點。

解: 此時 $f(\theta) = \cos \theta$, $g(\theta) = \sin \theta$ 而

$$\begin{cases} \cos \theta = 0 \\ \sin \theta = 0 \end{cases} \text{ 有解 } \begin{cases} \theta = \frac{\pi}{2} \\ \theta = 0 \end{cases}。$$

因此極心 O 為兩個圖形之一交點。至於極心以外之交點, 由例題 5 知 E 和 F 沒有其他不同

之等價方程式, 所以僅需解 $\begin{cases} E \\ F \end{cases}$ 。

從例題 2 知另有一交點 $(\frac{\sqrt{2}}{2}, \frac{\pi}{4})$ 。因此兩圖形之交點為極心 O 與 $(\frac{\sqrt{2}}{2}, \frac{\pi}{4})$ 。

例題 11: 試求 $\begin{cases} E: r = 1 + \cos \theta \\ F: r = 1 - \cos \theta \end{cases}$ 之圖形之交點。

解: 因為 $\begin{cases} 1 + \cos \theta = 0 \text{ 有解 } \theta = \pi \\ 1 - \cos \theta = 0 \text{ 有解 } \theta = 0 \end{cases}$, 由定理 4 知極心 O 為一交點。再導出 E 和 F 的等價方

程式為

$$\begin{cases} E_1: r = 1 + \cos \theta \\ E_2: r = -1 + \cos \theta \end{cases} \quad \begin{cases} F_1: r = 1 - \cos \theta \\ F_2: r = -1 - \cos \theta \end{cases}。$$

讓我們解

$$\begin{array}{ccc} \begin{cases} E_1 \\ F_1 \end{cases} & \text{及} & \begin{cases} E_1 \\ F_2 \end{cases} \\ \downarrow & & \downarrow \\ \begin{cases} r = 1 + \cos \theta \\ r = 1 - \cos \theta \end{cases} & & \begin{cases} r = 1 + \cos \theta \\ r = -1 - \cos \theta \end{cases} \\ \downarrow & & \downarrow \\ r = 1, \theta = \pm \frac{\pi}{2} & & r = 0, \theta = \pi \end{array}$$

(為極心之兩座標)。

因此兩圖形之交點為 極心 O 與 $(1, \pm \frac{\pi}{2})$
(請見圖 5)。

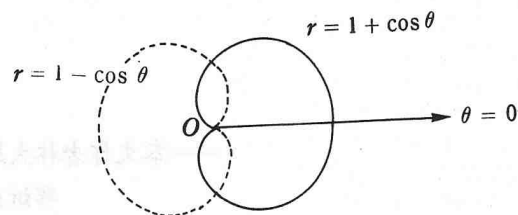


圖 5: 實線者為 G_E , 虛線者為 G_F 。

例題 11 中的交點 O (極心) 可從解 E 和 F 的等價方程式得出。下面的例子裏, 極心 O 也是交點, 却不可從解等價方程式得到。

例題 12: 試求 $\begin{cases} E: r = -1 + \cos \theta \\ F: r = 1 + 2 \cos \theta \end{cases}$ 之圖形之交點。

解：當 $r = 0$ 時， $\begin{cases} -1 + \cos \theta = 0 & \text{有解 } \theta = 0, \\ 1 + 2 \cos \theta = 0 & \text{有解 } \theta = \frac{2}{3}\pi, \end{cases}$

因此極心 O 為兩圖形之一交點。另再導出 E 和 F 的等價方程式。它們分別為

$$\begin{cases} E_1: r = -1 + \cos \theta \\ E_2: r = 1 + \cos \theta \end{cases} \quad \begin{cases} F_1: r = 1 + 2 \cos \theta \\ F_2: r = -1 + 2 \cos \theta \end{cases}.$$

讓我們解

$$\begin{array}{ccc} \begin{cases} E_1 \\ F_1 \end{cases} & \text{與} & \begin{cases} E_1 \\ F_2 \end{cases} \\ \downarrow & & \downarrow \\ \begin{cases} r = -1 + \cos \theta \\ r = 1 + 2 \cos \theta \end{cases} & & \begin{cases} r = -1 + \cos \theta \\ r = -1 + 2 \cos \theta \end{cases} \\ \downarrow & & \downarrow \\ \cos \theta = -2 & & \cos \theta = 0 \\ \downarrow & & \downarrow \\ \text{無解} & & \theta = n\pi \pm \frac{\pi}{2} \\ & & \downarrow \\ & & r = -1. \end{array}$$

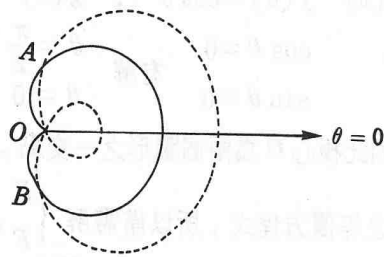


圖6 實線者為 G_E ，虛線者為 G_F 。

因此 $G_E \cap G_F = \{O, A = (1, \frac{\pi}{2}), B = (1, -\frac{\pi}{2})\}$ (請見圖6)

註1：本文大部份內容是依前作者在中央大學數學系所作之通俗演講稿整理而得。

註2：本文題材部份取自“林大風著：大學微積分”。華泰書局出版第十一章。在這一章裡讀者尚可發現用等價方程式來討論極座標方程式圖形的對稱性。

——本文作者林大風為東吳大學數學系教授

邱圻正為東吳大學數學系助教——