

3. 對於第一期「一般座標系中的距離公式」一文的引申

何景國

本文是由第一期190~191頁一文所引起的反響，作者現為滬江高中數學教師。

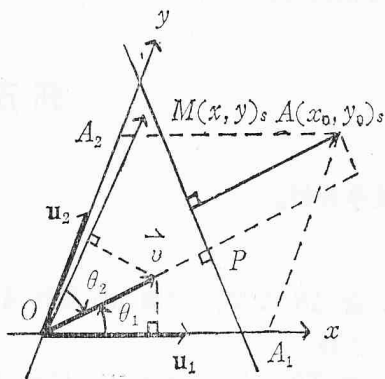
在實驗教材第三冊裏頭，研讀到法線式的時候，曾經強調，座標系在本節局限於採用正交座標系 $S_0=(O; \mathbf{e}_1, \mathbf{e}_2)$ ，因此對於平面座標系上一已知點 $A=(x_0, y_0)$ 到一直線 $L: x\cos\omega + y\sin\omega - p = 0$ (即直線 L 的法線式) 的距離 $d(A, L)$ 有一個計算公式如： $d(A, L) = |x_0\cos\omega + y_0\sin\omega - p|$ 講課以後，同學時常發問下列兩個問題：

- (一) 座標系的選用為何僅限於正交座標系，至於點與直線間距離公式仍在一般座標系中否成立？它的形式又是怎樣？
- (二) 在一般座標系向量內積 $\vec{a} \cdot \vec{b} = x_1x_2 + y_1y_2$ 是不能成立的，可否經過調整後，這個公式仍保持上述的形式？

現在借重「數季」一角來回答這兩個問題，提供一般座標系中點與直線間距離的公式。並附一古典幾何問題來例說一般座標系向量內積的應用方法，同時更盼各位同學藉此引出一些新問題來。

問題(一)的回答：

若在平面上選取一般座標系 $S \equiv (O; \mathbf{u}_1, \mathbf{u}_2)$ 其中：兩基底 $\mathbf{u}_1, \mathbf{u}_2$ 為線性無關的單位向量，則已知點 $A=(x_0, y_0)_s$ 到直線 L 距離的計算如下分析：



取 \vec{v} 為 L 之單位法向量，設 \vec{v} 在 $\mathbf{u}_1, \mathbf{u}_2$ 方向之投影量分別為 $\alpha = \cos\theta_1$ 和 $\beta = \cos\theta_2$ (參看圖示)。令 $M=(x, y)_s$ 為 L 上任一點，則：
 $d(A, L) = |\vec{OA}$ 在 \vec{v} 方向之投影量 $-\vec{OM}$ 在 \vec{v} 方向之投影量|
 $= |\vec{OA} \cdot \vec{v} - \vec{OM} \cdot \vec{v}|$

其中，由於向量成份分析得： $\vec{OA} = \vec{OA}_1 + \vec{OA}_2$
 所以 $\vec{OA} \cdot \vec{v} = (\vec{OA}_1 + \vec{OA}_2) \cdot \vec{v} = \vec{OA}_1 \cdot \vec{v} + \vec{OA}_2 \cdot \vec{v}$
 $= x_0\cos\theta_1 + y_0\cos\theta_2$

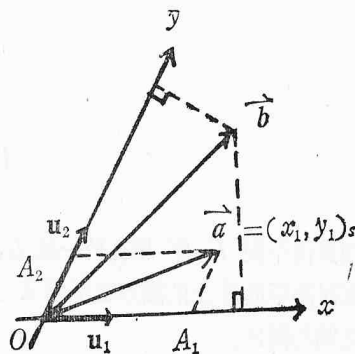
同時，因為 $M=(x, y)_s \in L \iff \vec{OM} \cdot \vec{v} = \text{常數 } h = \vec{OP}$
 $= x\cos\theta_1 + y\cos\theta_2$

故 $d(A, L) = |x_0\cos\theta_1 + y_0\cos\theta_2 - h|$

這便是點 A 到直線 L 在一般座標系中的距離公式，且式中角 θ_1 與 θ_2 均是由選定之座標系 S 與直線 L 所決定的，與點 A 的位置無關。我們可以稱 $\{\theta_1, \theta_2\}_s$ 為直線 L 在基底 $\mathbf{u}_1, \mathbf{u}_2$ 方向上的一組法向角，且同時可以稱 $\{\cos\theta_1, \cos\theta_2\}$ 為向量 \vec{v} 對於座標系 S 的一組方向餘弦。

問題(二)的回答：

在一般座標系 S 中內積 $\vec{a} \cdot \vec{b} = x_1\alpha + y_1\beta$ 其中： x_1, y_1 為 \vec{a} 在一般座標系 $S=(O; \mathbf{u}_1, \mathbf{u}_2)$ 的座標亦即 $\vec{a}=(x_1, y_1)_s$ 。 α, β 分別為 \vec{b} 在 $\mathbf{u}_1, \mathbf{u}_2$ 方向之投影量。



回顧上述證明過程易得:

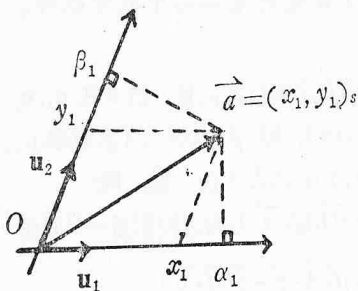
$$\vec{a} \cdot \vec{b} = (\vec{OA}_1 + \vec{OA}_2) \cdot \vec{b} = \vec{OA}_1 \cdot \vec{b} + \vec{OA}_2 \cdot \vec{b}$$

即

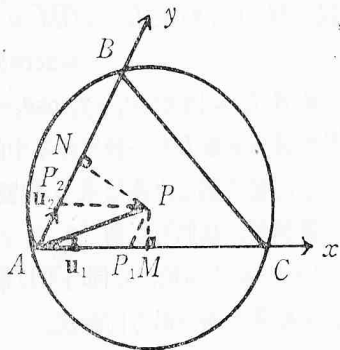
$$\vec{a} \cdot \vec{b} = x_1 \cdot \alpha + y_1 \cdot \beta$$

順便一提的: 上式保持了內積在正交座標系中的形式。

同時向量 \vec{a} 的長度 $|\vec{a}| = \sqrt{x_1^2 + y_1^2}$ 其中: $\vec{a} = (x_1, y_1)$,
且 α_1, β_1 分別是 \vec{a} 在 $\mathbf{u}_1, \mathbf{u}_2$ 方向上的投影量。



例說: 設三角形 ABC , $AB=6$, $AC=8$, $BC=2\sqrt{13}$ 試求 $\triangle ABC$ 之外接圓半徑 R 之長。



向量方法解:

$$\therefore 2\vec{AB} \cdot \vec{AC} = \vec{AC}^2 + \vec{AB}^2 - \vec{BC}^2 = 48$$

設 M, N 分別為 \vec{AC}, \vec{AB} 之中點,

$$\text{令 } \vec{AP} = m\vec{AB} + n\vec{AC} \quad (m, n \in \mathbf{R})$$

$$\therefore \vec{NP} = \vec{AP} - \vec{AN} = (m\vec{AB} + n\vec{AC}) - (1/2)\vec{AB}$$

$$= (m-1/2)\vec{AB} + n\vec{AC}$$

$$\vec{MP} = \vec{AP} - \vec{AM} = (m\vec{AB} + n\vec{AC}) - (1/2)\vec{AC}$$

$$= m\vec{AB} + (n-1/2)\vec{AC}$$

$$\vec{PN} \perp \vec{AB} \implies \vec{NP} \cdot \vec{AB} = 0$$

$$\implies 36(m-1/2) + 24n = 0 \dots\dots\dots(1)$$

$$\vec{PM} \perp \vec{AC} \implies \vec{MP} \cdot \vec{AC} = 0$$

$$\implies 24m + 64(n-1/2) = 0 \dots\dots\dots(2)$$

解(1), (2)

$$\implies m = \frac{2}{9}, \quad n = \frac{5}{12}$$

在平面上選一座標系 $S \equiv (A; \mathbf{u}_1, \mathbf{u}_2)$ 其中: $\mathbf{u}_1 = (1/8)\vec{AC}$

; $\mathbf{u}_2 = (1/6)\vec{AB}$ 承問題(一)之結果,

$$|\vec{AP}|^2 = 6\left(\frac{2}{9}\right)(3) + 8\left(\frac{5}{12}\right)(4) = \frac{52}{3}$$

$$\text{即 } R = |\vec{AP}| = (2/3)\sqrt{39} \quad \#$$

古典幾何方法解:

$$\text{在 } \triangle ABC \text{ 中, } \cos A = \frac{\vec{AB}^2 + \vec{AC}^2 - \vec{BC}^2}{2\vec{AB} \cdot \vec{AC}} = \frac{1}{2} \quad (\text{餘弦定律})$$

$$\implies \angle A = 60^\circ$$

$$\text{由正弦定律知: } BC / \sin A = 2R \implies R = (2/3)\sqrt{39}$$