

平方根的 的另一種 計算法

王湘君

下面要介紹的平方根近似值的求法，方法簡便，整個過程只需要一點簡易的代數工具就夠了，而且所產生的誤差也極微。

一、解法過程

這個方法是根據觀察兩個連續完全平方數的差，等於它們平方根的和。例如，

$$\sqrt{49} = 7, \quad \sqrt{64} = 8$$

而 $64 - 49 = 7 + 8$

利用這件事實求平方根近似值如下：例如求

$\sqrt{51}$ 的近似值。既然 $49 < 51 < 64$ ，所以 $7 < \sqrt{51} < 8$ ，現在來計算 $\sqrt{51}$ 的分數部分的

近似值 $\frac{(51 - 49)}{7 + 8} = \frac{2}{15}$ 故 $7\frac{2}{15}$ 是 $\sqrt{51}$ 的

數 x	近似值 A	平方根 S	誤差(1) $e = S - A$	近似值的平方 A^2	誤差(2) $E = x - A^2$
51	$7\frac{2}{15} \approx 7.133$	7.141	0.008	$50\frac{199}{225} \approx 50.884$	0.116
413	$20\frac{13}{41} \approx 20.317$	20.322	0.005	$412\frac{1317}{1681} \approx 412.783$	0.217
103	$10\frac{3}{21} \approx 10.143$	10.149	0.006	$102\frac{387}{441} \approx 102.878$	0.122
240	$15\frac{15}{31} \approx 15.484$	15.492	0.008	$239\frac{721}{961} \approx 239.750$	0.250
82	$9\frac{1}{19} \approx 9.053$	9.055	0.002	$81\frac{343}{361} \approx 81.950$	0.050

近似值。

$$\left(7\frac{2}{15}\right)^2 \approx 50.884$$

或 $7\frac{2}{15} \approx 7.133$

而 $\sqrt{51} \approx 7.141$

另一個例子，計算 $\sqrt{413}$ ，因為 $20^2 = 400$ ，故 $\sqrt{413}$ 的近似值為

$$20\frac{413-400}{20+21} = 20\frac{13}{41}$$

我們核對一下：

$$\left(20\frac{13}{41}\right)^2 \approx 412.783$$

下面是用計算機做出來的一些例子，這些例子足以引起學生的好奇心，他們會問“為什麼這方法可以算得出平方根的近似值？”

二、分 析

設 n 為任意正整數，則 n^2 和 $(n+1)^2$ 是兩個連續完全平方數。

$$(n+1)^2 - n^2 = 2n+1 = (n+1) + n$$

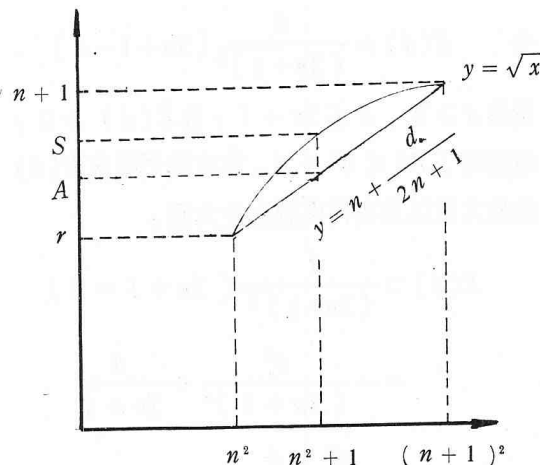
上式說明了兩個連續完全平方數的差等於它們平方根的和。

下面我們來看看這個方法的原理。假設該數（我們欲求其平方根）介於 n^2 和 $(n+1)^2$ 之間，設為 $n^2 + d$ ，其中 $0 \leq d \leq 2n+1$ ，其近似值 A 是

$$n + \frac{n^2 + d - n^2}{n + (n+1)} = n + \frac{d}{2n+1}$$

這是 d 的一次函數，它的圖形是一線段：從 n ($d=0$) 到 $n+1$ ($d=2n+1$)。所求之平方根 \sqrt{x} 表示拋物線的一段的圖形表示如圖 1，所以函數它說明了這個方法，是一種線性內插法，換句話說，在 n^2 和 $(n+1)^2$ 之間有 $2n+1$ 個分數，而 $n^2 + d$ 是“第 d 個分段”故 $n^2 + d$ 的平方根，必須是 n 到 $n+1$ 之間的第 d 個分數，故其近似值為

$$n + \frac{d}{2n+1}。$$



(圖 1)

從圖中看出一個很明顯的事實，就是近似值未超過真正的平方根 ($A \leq S$)，同時其誤差最大產生在區間 n^2 到 $(n+1)^2$ 的中點。這兩件事實，待會兒我們用代數來證明。

現在我們把求得的近似值平方與原來的數 $n^2 + d$ 作差，看一看 $(n^2 + d) - A^2$ 到底有多大？

$$\begin{aligned} A^2 &= \left(n + \frac{d}{2n+1}\right)^2 \\ &= n^2 + \frac{2dn}{2n+1} + \frac{d^2}{(2n+1)^2} \\ &= n^2 + \frac{2dn}{2n+1} + \frac{d}{2n+1} \\ &\quad + \frac{d^2}{(2n+1)^2} - \frac{d}{2n+1} \\ &= n^2 + \frac{d(2n+1)}{2n+1} \left[\frac{d}{2n+1} - 1 \right] \\ &= n^2 + d + \frac{d}{(2n+1)^2} [d - (2n+1)] \end{aligned}$$

所以，

$$\begin{aligned} & (n^2 + d) - A^2 \\ &= \frac{d}{(2n+1)^2} [2n+1-d] \end{aligned}$$

$$\text{令 } E(d) = \frac{d}{(2n+1)^2} [2n+1-d]$$

既然 $d \geq 0$, $d \leq 2n+1$, 故 $E(d) \geq 0$, 這證明了 $A^2 \leq n^2 + d$ 。其次我們要求 $E(d)$ 的最大值以及在何處發生最大值。

$$\begin{aligned} E(d) &= \frac{d}{(2n+1)^2} [2n+1-d] \\ &= -\frac{d^2}{(2n+1)^2} + \frac{d}{2n+1} \\ &= -\frac{d^2}{a^2} + \frac{d}{a} \\ &\quad (\text{令 } a = 2n+1, 0 \leq d \leq a) \\ &= -\left(\frac{d}{a} - \frac{1}{2}\right)^2 + \frac{1}{4} \end{aligned}$$

故 $E(d)$ 的最大值發生在 $d_0 = \frac{a}{2} = \frac{2n+1}{2}$ 處

, 其值為 $E(d_0) = \frac{1}{4} = 0.25$, 請看圖 2。

d	$E(d)$
0	0
$\frac{a}{8}$	$-\frac{1}{64} + \frac{1}{8} = \frac{7}{64}$
$\frac{a}{4}$	$-\frac{1}{16} + \frac{1}{4} = \frac{3}{16}$
$\frac{a}{3}$	$-\frac{1}{9} + \frac{1}{3} = \frac{2}{9}$
$\frac{a}{2}$	$-\frac{1}{4} + \frac{1}{2} = \frac{1}{4}$
$\frac{3a}{4}$	$-\frac{4}{9} + \frac{2}{3} = \frac{2}{9}$
$\frac{7a}{8}$	$-\frac{49}{64} + \frac{7}{8} = \frac{7}{64}$
a	0

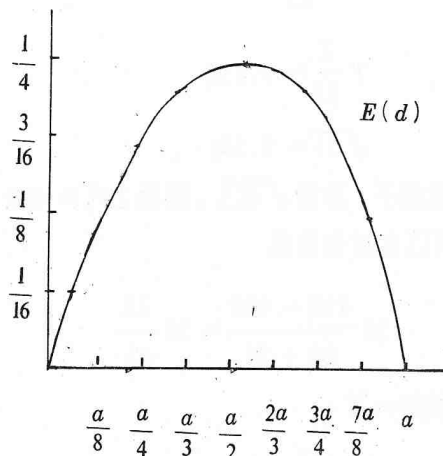


圖 2

這就證明了早先從圖 1 中觀察出來的事實：

$E(d)$ 最大值發生在區間 $[n^2, n^2+1]$ 的中點，而且我們把最大誤差限制在 0.25。

例：求 $\sqrt{30.5}$ 的近似值

$$A = 5 + \frac{30.5 - 25}{5 + 6} = 5 \frac{5.5}{11} = 5 \frac{1}{5}$$

$A^2 = \left(5 \frac{1}{5}\right)^2 = 30.25$, 這時其誤差是 0.25

, 也就是誤差的最大可能值, 因為 30.5 正好在區間 $[25, 36]$ 的中央。

設 x 是任意非負實數, 令 A 是其 \sqrt{x} 的近似值。因為 $A^2 \leq x$, 所以 $A \leq \sqrt{x}$, 令 $e = \sqrt{x} - A$ 。早先我們探究了 E , 這是 x 與其平方根近似值的平方的差, 即 $E = x - A^2$ 。現在我們以同樣的方法來分析 e 。當然在 e 和 E 之間存在了一些關係, 但不是一般學生想像的 $e = \sqrt{E}$ 的關係。

$$e = \sqrt{x} - A \Rightarrow A = \sqrt{x} - e$$

$$A^2 = (\sqrt{x} - e)^2 = x - 2\sqrt{x}e + e^2$$

因為

$$x - A^2 \leq 0.25$$

所以

$$2\sqrt{x}e - e^2 \leq 0.25$$

$$\Rightarrow e^2 - 2\sqrt{x}e + 0.25 \geq 0$$

我們要解上列不等式的 e

首先我們令 $e^2 - 2\sqrt{x}e + 0.25 = 0$

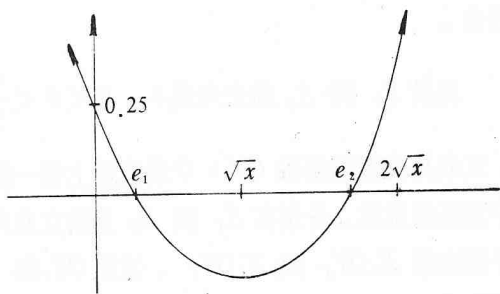
根據二次方程式根的公式

$$e = \frac{2\sqrt{x} \pm \sqrt{4x-1}}{2}$$

$$= \frac{\sqrt{4x} \pm \sqrt{4x-1}}{2}$$

令 $e_1 = \frac{\sqrt{4x} - \sqrt{4x-1}}{2}$

$$e_2 = \frac{\sqrt{4x} + \sqrt{4x-1}}{2}$$



因此不等式的解為 $e \leq e_1$ ，或 $e \geq e_2$

又 $e \geq 0$ ，且 $A = \sqrt{x} - e \geq 0$ ，

$\therefore e \leq \sqrt{x}$ 。

所以

$$0 \leq e \leq e_1 = \frac{\sqrt{4x} - \sqrt{4x-1}}{2}$$

可見 e 的範圍是由原數 x 所決定，這又引起我們以直觀的方式來看其極限，也就是：當 x 愈來愈大時， e 是否會趨近一個特別值？

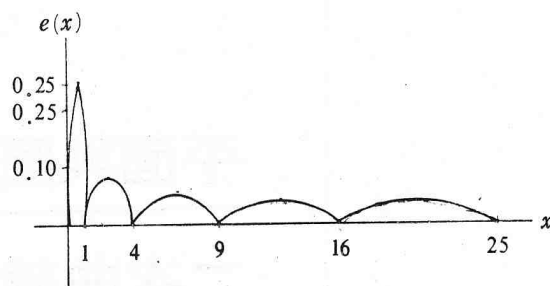
$$e_1 = \frac{\sqrt{4x} - \sqrt{4x-1}}{2}$$

$$= \frac{\sqrt{4x} - \sqrt{4x-1}}{2} \cdot \frac{\sqrt{4x} + \sqrt{4x-1}}{\sqrt{4x} + \sqrt{4x-1}}$$

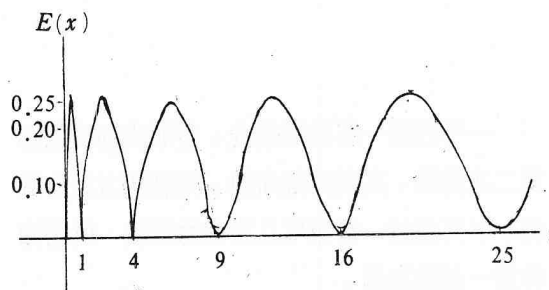
$$= \frac{1}{2(\sqrt{4x} + \sqrt{4x-1})}$$

很明顯地，當 $x \rightarrow \infty$ 時， $e_1 \rightarrow 0$ ，所以 $e \rightarrow 0$ 而 E 是沒有極限的，也就是 x 很大時 E 是不規則的，但是 E 一再地受到 0 和 $1/4$ 的限制。下

面兩圖說明 e 和 E 的變化情形



$e(x)$ 的圖形



$e(x)$ 的圖形

例：求 $\sqrt{640800.5}$ 的近似值

$$\because 800^2 = 640000$$

$$\therefore A = 800 + \frac{800.5}{800 + 801} = 800.5$$

我們用計算機，看到

$$\sqrt{640800.5} = 800.50015$$

所以 $e = 0.00015$

$$\text{而 } E = 640800.5 - 640800.25$$

$$= 0.25$$

我們可以看出一個事實：當原數很大時，我們算的近似值愈靠近其真的平方根，而且它的平方與原數的誤差最大不超過 0.25。

參考資料：Lowell Cormony: Analysis of a truck driver's square root algorithm, *Mathematics Teacher*, Feb. 1981, 144 ~ 149.

— 本文作者現任教於師大附中 —