

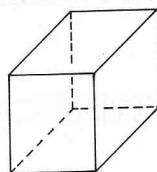
上期徵答問題解答

15301 六面體配號問題(一)

優勝名單：

優良：陳啓良（僑忠國小）

參考答案：（張國男提供）



在解題過程中，提及四邊形區域時，均指六面體外表原有之四邊形區域，先此敘明。

任一解經適當變換，均可產生 48 個解（包括該解在內），說明如下：

設 η 為已予任一解，而 ν 為該六面體之一個複製品，其頂點猶待配號。注意 η 中經過 1 之三條稜，設此三條稜之四個端點所配之號數為 A, B, C 與 D ，其中 $A = 1$ 。首先，可將 A 配予 ν 中任一頂點，故 A 之配點法共有 8 種。若 A 配予 ν 中之頂點甲，而 ν 中經過甲之三條稜之四個端點為甲，乙，丙與丁，則可將 B, C 與 D 配予乙，丙與丁，但順序不拘，故 B, C, D 之配點法共有 6 種，遂知 A, B, C 與 D 之配點法共有 48 種。 A, B, C 與 D 配定於 ν 後，可將 η 中經過 A, B, C 之四邊形區域另一頂點之號數配予 ν 中經過 A, B, C 之四邊形區域之另一頂點，再將 η 中經過 A, B, D 之四邊形區域另一頂點之號數配予 ν 中經過 A, B, D 之四邊形區域之另一頂點，更將 η 中經過 A, C, D 之四邊形區域另一頂點之號數配予 ν 中經過 A, C, D 之四邊形區域之另一頂點，最後將所剩之唯一號數配予 ν 中所剩之唯一頂點。由是可知：任一解經如此變換，均可產生 48 個解（包括該解在內）；如此 48 個解，可併為一類。為方便計，對於同一類 48 個解，以下均僅列出一解以為代表。（附記：顯然可知任一解之四邊形區域四頂點之號數和均為 18，故若某解中經過 1 之三條稜之四個端點所配之四個號數，與另一解中經過 1 之三條稜之四個端點所配之四個號數完全相同，則此二解同屬一類；否則分屬二類。）

此後，對於四數組，均限定其數全異，且由小而大排之。

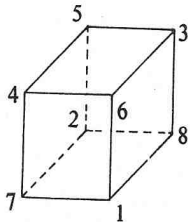
因任一解之四邊形區域四頂點之號數和均為 18，故任一解中經過 1 之三個四邊形區域三組頂點

可配之四數組必為 $(1, 2, 7, 8)$, $(1, 3, 6, 8)$, $(1, 4, 5, 8)$ 與 $(1, 4, 6, 7)$ 中之三個。但因前三個四數組均含有 1 及 8 , 故不得配以此三個四數組 , 遂知僅有下列三種可能情形 :

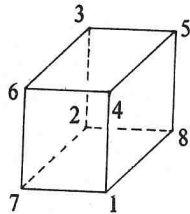
(一)若經過 1 之三個四邊形區域三組頂點所配之四數組為 $(1, 2, 7, 8)$, $(1, 3, 6, 8)$ 與 $(1, 4, 6, 7)$, 則可得圖一 (為代表) 。

(二)若經過 1 之三個四邊形區域三組頂點所配之四數組為 $(1, 2, 7, 8)$, $(1, 4, 5, 8)$ 與 $(1, 4, 6, 7)$, 則可得圖二 (為代表) 。

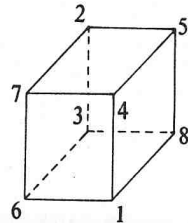
(三)若經過 1 之三個四邊形區域三組頂點所配之四數組為 $(1, 3, 6, 8)$, $(1, 4, 5, 8)$ 與 $(1, 4, 6, 7)$, 則可得圖三 (為代表) 。



圖一



圖二



圖三

綜上所論 , 遂知共有 144 種配號法。